


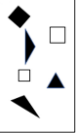

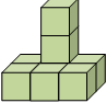

















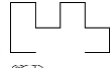

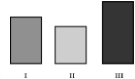
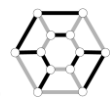





# Кенгуру 2020 - Ответы

1 - 2 классы	3 - 4 классы	5 - 6 классы				
<p>1. 6</p> <p>2. </p> <p>3. <table border="1" style="display: inline-table; vertical-align: middle;"><tr><td>D</td><td>C</td></tr><tr><td>B</td><td>A</td></tr></table></p> <p>4. </p> <p>5. 6</p> <p>6. </p> <p>7. </p> <p>8. А-зелёная, В-голубая, С-красная</p> <p>9. </p> <p>10. в С</p> <p>11. </p> <p>12. 5</p> <p>13. </p> <p>14. 1</p> <p>15. </p> <p>16. 3</p> <p>17. </p> <p>18. 26</p> <p>19. 5</p> <p>20. С</p> <p>21. 5</p> <p>22. 1, 3 или 5</p> <p>23. 6</p> <p>24. 5</p>	D	C	B	A	<p>1. </p> <p>2. </p> <p>3. </p> <p>4. </p> <p>5. </p> <p>6. </p> <p>7. 19</p> <p>8. 5</p> <p>9. 3</p> <p>10. 9</p> <p>11. </p> <p>12. 4</p> <p>13. 42</p> <p>14. 70</p> <p>15. 4</p> <p>16. 3 коротких и 3 длинных</p> <p>17. 7</p> <p>18. лимонное мороженое и вафля</p> <p>19. Эбби Лилли Кора</p> <p>20. 6</p> <p>21. 5</p> <p>22. 8</p> <p>23. </p> <p>24. 942</p>	<p>1. </p> <p>2. </p> <p>3. </p> <p>4. 2</p> <p>5. </p> <p>6. 13</p> <p>7. 3</p> <p>8. 3</p> <p>9. 5</p> <p>10. в точке Е</p> <p>11. 3</p> <p>12. 5 часов, 42 минуты</p> <p>13. Я говорю правду</p> <p>14. </p> <p>15. </p> <p>16. 7</p> <p>17. </p> <p>18. </p> <p>19. 3</p> <p>20. </p> <p>21. 8</p> <p>22. </p> <p>23. 19 см</p> <p>24. 2</p> <p>25. </p> <p>26. лимонное мороженое с вафлей</p> <p>27. 3</p> <p>28. <math>a = 6, b = 4, c = 8</math> _____</p> <p>29. 36</p> <p>30. на восток</p>
D	C					
B	A					

7 - 8 классы	9 - 11 классы	
<p>1. 1</p> <p>2. </p> <p>3. 6</p> <p>4. <math>\frac{8+5}{3}</math></p> <p>5. <math>\frac{1}{2}</math></p> <p>6. 8</p> <p>7. 18</p> <p>8. -120</p> <p>9. 5 часов</p> <p>10. 43</p> <p>11. 1 км</p> <p>12. 4 км</p> <p>13. </p> <p>14. 25</p> <p>15. 24</p> <p>16. 1 см<sup>2</sup></p> <p>17. 400%</p> <p>18. 4</p> <p>19. 24</p> <p>20. 3, 4, 2, 1, 5</p> <p>21. зелёный</p> <p>22. 112.5°</p> <p>23. 10</p> <p>24. 1</p> <p>25. 8</p> <p>26. 8</p> <p>27. 96</p> <p>28. 20 м</p> <p>29. 165 м</p> <p>30. 3</p>	<p>1. 18</p> <p>2. 1234 + 5</p> <p>3. Анина бабушка</p> <p>4. 0</p> <p>5. -1</p> <p>6. 158</p> <p>7. 101</p> <p>8. 400 см</p> <p>9. 4</p> <p>10. 1/2</p> <p>11. в субботу</p> <p>12. 100</p> <p>13. 2 км</p> <p>14. 48 см</p> <p>15. 3</p> <p>16. 50°</p> <p>17. 3</p> <p>18. 75 км</p> <p>19. 54</p> <p>20. 6 дм</p> <p>21. 4/9</p> <p>22. 13 км</p> <p>23. Все голубые фигуры маленькие.</p> <p>24. 15 см<sup>2</sup></p> <p>25. 32</p> <p>26. 13</p> <p>27. Элис</p> <p>28. 7</p> <p>29. 72°</p> <p>30. 13</p>	